

Họ, tên thí sinh:.....Số báo danh:.....

**Câu 1.** Trung điểm các cạnh của một tứ diện đều tạo thành

- A. Các đỉnh của một hình mười hai mặt đều. B. Các đỉnh của một hình bát diện đều.  
C. Các đỉnh của một hình tứ diện đều. D. Các đỉnh của một hình hai mươi mặt đều.

**Câu 2.** Phát biểu nào sau đây là **sai** ?

- A.  $\lim_{n \rightarrow \infty} \frac{1}{n^k} = 0 \ (k \in \mathbb{N}^*)$ . B.  $\lim_{n \rightarrow \infty} q^n = 0 \ (|q| > 1)$ .  
C.  $\lim_{n \rightarrow \infty} u_n = c \ (u_n = c \text{ là hằng số})$ . D.  $\lim_{n \rightarrow \infty} \frac{1}{n} = 0$ .

**Câu 3.** Trong không gian với hệ trục tọa độ  $Oxyz$ , phương trình mặt phẳng trung trực  $(\alpha)$  của đoạn thẳng  $AB$  với  $A(0; 4; -1)$  và  $B(2; -2; -3)$  là

- A.  $(\alpha): x - 3y + z = 0$ . B.  $(\alpha): x - 3y + z - 4 = 0$ .  
C.  $(\alpha): x - 3y - z - 4 = 0$ . D.  $(\alpha): x - 3y - z = 0$ .

**Câu 4.** Phương trình  $(2, 5)^{5x-7} = \left(\frac{2}{5}\right)^{x+1}$  có nghiệm là.

- A.  $x = 2$ . B.  $x = 1$ . C.  $x \geq 1$ . D.  $x < 1$ .

**Câu 5.** Tập nghiệm của bất phương trình:  $2^{2x} < 2^{x+6}$  là.

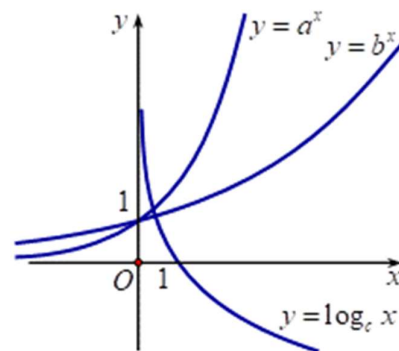
- A.  $(0; 6)$ . B.  $(-\infty; 6)$ . C.  $(6; +\infty)$ . D.  $(0; 64)$ .

**Câu 6.** Trong các hàm số dưới đây, hàm số nào nghịch biến trên tập số thực  $\mathbb{R}$  ?

- A.  $y = \left(\frac{2}{e}\right)^x$ . B.  $y = \log_{\frac{1}{2}} x$ . C.  $y = \log_{\frac{\pi}{4}} (2x+1)$ . D.  $y = \left(\frac{\pi}{3}\right)^x$ .

**Câu 7.** Hàm số  $y = -x^3 + 3x^2 + 1$  có đồ thị  $(C)$ . Tiếp tuyến của  $(C)$  song song với đường thẳng  $y = 3x + 2$  là:

- A.  $y = -3x + 3$ . B.  $y = 3x + 6$ . C.  $y = 3x - 6$ . D.  $y = 3x$ .

**Câu 8.** Cho  $a, b, c$  là các số thực dương khác 1. Hình vẽ bên là đồ thị các hàm số  $y = a^x, y = b^x, y = \log_c x$ .

Mệnh đề nào sau đây đúng?

- A.  $a < b < c$ . B.  $c < b < a$ .  
C.  $a < c < b$ . D.  $c < a < b$ .

**Câu 9.** E. coli là vi khuẩn đường ruột gây tiêu chảy, đau bụng dữ dội. Cứ sau 20 phút thì số lượng vi khuẩn E. coli tăng gấp đôi. Ban đầu, chỉ có 40 vi khuẩn E. coli trong đường ruột. Hỏi sau bao lâu, số lượng vi khuẩn E. coli là 671088640 con?

- A. 12 giờ. B. 8 giờ. C. 24 giờ. D. 48 giờ.

**Câu 10.** Cho hàm số  $f(x)$  xác định trên  $K$  và  $F(x)$  là một nguyên hàm của  $f(x)$  trên  $K$ . Khẳng định nào dưới đây đúng?

A.  $f'(x) = F(x), \forall x \in K.$

B.  $F'(x) = f'(x), \forall x \in K.$

C.  $F'(x) = f(x), \forall x \in K.$

D.  $F(x) = f(x), \forall x \in K.$

**Câu 11.** Một hình nón có thiết diện qua trục là một tam giác vuông cân có cạnh góc vuông bằng  $a$ . Diện tích xung quanh của hình nón bằng

A.  $\frac{2\pi a^2 \sqrt{2}}{3}.$

B.  $\pi a^2 \sqrt{2}.$

C.  $\frac{\pi a^2 \sqrt{2}}{2}.$

D.  $\frac{\pi a^2 \sqrt{2}}{4}.$

**Câu 12.** Thể tích của một khối cầu có bán kính  $R$  là:

A.  $V = 4\pi R^3.$

B.  $V = \frac{4}{3}\pi R^3.$

C.  $V = \frac{4}{3}\pi R^2.$

D.  $V = \frac{1}{3}\pi R^3.$

**Câu 13.** Cho hàm số  $y = f(x)$  liên tục và có bảng biến thiên trong đoạn  $[-1; 3]$  như hình vẽ. Giá trị lớn nhất của hàm số  $y = f(x)$  trên đoạn  $[-1; 3]$  là:

$x$	-1	0	2	3
$f'(x)$	+	0	-	+
$f(x)$	0	5	1	4

A.  $f(-1).$

B.  $f(2).$

C.  $f(3).$

D.  $f(0).$

**Câu 14.** Cho hàm số  $y = f(x)$  có bảng xét dấu của đạo hàm như sau:

$x$	$-\infty$	-1	0	3	$+\infty$
$f'(x)$	+	0	-	0	-

Hàm số đã cho nghịch biến trên khoảng nào dưới đây?

A.  $(-\infty; -1).$

B.  $(-1; 0).$

C.  $(0; +\infty).$

D.  $(-1; 3).$

**Câu 15.** Tính  $F(x) = \int x \cos x dx$  ta được kết quả :

A.  $F(x) = x \sin x - \cos x + C.$

B.  $F(x) = -x \sin x + \cos x + C.$

C.  $F(x) = x \sin x + \cos x + C.$

D.  $F(x) = -x \sin x - \cos x + C.$

**Câu 16.** Xét  $I = \int x^3 (4x^4 - 3)^5 dx$ . Bằng cách đặt:  $u = 4x^4 - 3$ , khẳng định nào sau đây **đúng**?

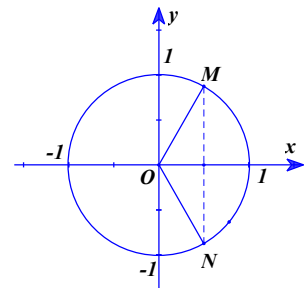
A.  $I = \frac{1}{12} \int u^5 du.$

B.  $I = \frac{1}{4} \int u^5 du.$

C.  $I = \frac{1}{16} \int u^5 du.$

D.  $I = \int u^5 du.$

**Câu 17.** Một phương trình có tập nghiệm được biểu diễn trên đường tròn lượng giác là hai điểm  $M$  và  $N$  trong hình dưới.



Phương trình đó là:

A.  $2 \sin x - 1 = 0.$

B.  $2 \cos x - 1 = 0.$

C.  $2 \sin x - \sqrt{3} = 0.$

D.  $2 \cos x - \sqrt{3} = 0.$

**Câu 18.** Cho cấp số nhân  $(u_n)$  có  $u_1 = -2$  và công bội  $q = 3$ . Số hạng  $u_2$  là:

A.  $u_2 = -6.$

B.  $u_2 = 1.$

C.  $u_2 = -18.$

D.  $u_2 = 6.$

**Câu 19.** Gieo ngẫu nhiên 2 con xúc sắc cân đối đồng chất. Tìm xác suất của biến cố: “Hiệu số chấm xuất hiện trên 2 con xúc sắc bằng 1”.

A.  $\frac{2}{9}.$

B.  $\frac{1}{9}.$

C.  $\frac{5}{6}.$

D.  $\frac{5}{18}.$

**Câu 20.** Số đường tiệm cận của đồ thị hàm số  $y = \frac{\sqrt{x^2 - 4}}{x^2 - 1}$  là

- A. 4. B. 3. C. 2. D. 1.

**Câu 21.** Giá trị của  $\log_a \frac{1}{a^3}$  với  $a > 0$  và  $a \neq 1$  bằng:

- A. 3. B.  $-\frac{3}{2}$ . C.  $-\frac{2}{3}$ . D. -3.

**Câu 22.** Cho  $I = \int_0^2 f(x) dx = 3$ . Khi đó  $J = \int_0^2 [4f(x)] dx$  bằng:

- A. 12. B. 4. C. 8. D. 2.

**Câu 23.** Nghiệm bất phương trình  $\log_{\frac{1}{5}}(3x-5) > \log_{\frac{1}{5}}(x+1)$  là.

- A.  $x > 3$ . B.  $-1 < x < \frac{5}{3}$ . C.  $-1 < x < 3$ . D.  $\frac{5}{3} < x < 3$ .

**Câu 24.** Phương trình  $\log_3(3x-1) = 2$  có nghiệm là:

- A.  $x = \frac{3}{10}$ . B.  $x = 1$ . C.  $x = 3$ . D.  $x = \frac{10}{3}$ .

**Câu 25.** Trong không gian  $Oxyz$ , mặt phẳng  $(P): x + 2y - 3z + 3 = 0$  có một vector pháp tuyến là

- A.  $(1; 2; 3)$  B.  $(-1; 2; -3)$ . C.  $(1; 2; -3)$ . D.  $(1; -2; 3)$ .

**Câu 26.** Hàm số  $y = x^4 - 3x^2 - 2$  có bao nhiêu điểm cực trị?

- A. 0. B. 3. C. 1. D. 2.

**Câu 27.** Tìm nghiệm thực của phương trình  $2^x = 7$ ?

- A.  $x = \log_2 7$ . B.  $x = \log_7 2$ . C.  $x = \frac{7}{2}$ . D.  $x = \sqrt{7}$ .

**Câu 28.** Tập xác định của hàm số  $y = (x-1)^{\frac{1}{5}}$  là:

- A.  $\mathbb{R}$ . B.  $[1; +\infty)$ . C.  $(1; +\infty)$ . D.  $(0; +\infty)$ .

**Câu 29.** Trong không gian với hệ trục tọa độ  $Oxyz$ , cho  $\vec{a} = -\vec{i} + 2\vec{j} - 3\vec{k}$ . Tọa độ của vector  $\vec{a}$  là:

- A.  $(2; -3; -1)$ . B.  $(2; -1; -3)$ . C.  $(-3; 2; -1)$ . D.  $(-1; 2; -3)$ .

**Câu 30.** Với  $a, b$  là các tham số thực. Giá trị tích phân  $\int_0^b (3x^2 - 2ax - 1) dx$  bằng

- A.  $b^3 - b^2a - b$ . B.  $b^3 + b^2a + b$ . C.  $b^3 - ba^2 - b$ . D.  $3b^2 - 2ab - 1$ .

**Câu 31.** Cho khối chóp  $S.ABC$  có đáy là tam giác đều,  $SA \perp (ABC)$  và  $SA = a$ . Biết rằng thể tích của khối  $S.ABC$  bằng  $\sqrt{3}a^3$ . Tính độ dài cạnh đáy của khối chóp  $S.ABC$ .

- A.  $3\sqrt{3}a$ . B.  $2\sqrt{2}a$ . C.  $2a$ . D.  $2\sqrt{3}a$ .

**Câu 32.** Với  $a$  và  $b$  là các số thực dương,  $a$  khác 1. Biểu thức  $\log_a(a^2b)$  bằng:

- A.  $1 + 2\log_a b$ . B.  $2 - \log_a b$ . C.  $2\log_a b$ . D.  $2 + \log_a b$ .

**Câu 33.** Trong không gian  $Oxyz$ , cho mặt cầu có phương trình  $x^2 + y^2 + z^2 - 2x + 4y - 6z + 9 = 0$ . Tọa độ tâm  $I$  và bán kính  $R$  của mặt cầu là

- A.  $I(1; -2; 3)$  và  $R = \sqrt{5}$ . B.  $I(-1; 2; -3)$  và  $R = \sqrt{5}$ .  
C.  $I(1; -2; 3)$  và  $R = 5$ . D.  $I(-1; 2; -3)$  và  $R = 5$ .

**Câu 34.** Cho  $\int_0^1 \left( \frac{1}{x+1} - \frac{1}{x+2} \right) dx = a \ln 2 + b \ln 3$  với  $a, b$  là các số nguyên. Mệnh đề nào dưới đây đúng?

- A.  $a - 2b = 0$  B.  $a + b = -2$  C.  $a + b = 2$  D.  $a + 2b = 0$

**Câu 35.** Cho hai mặt phẳng  $(\alpha): 3x - 2y + 2z + 7 = 0$  và  $(\beta): 5x - 4y + 3z + 1 = 0$ . Phương trình mặt phẳng  $(P)$  đi qua gốc tọa độ đồng thời vuông góc  $(\alpha)$  và  $(\beta)$  là

- A.  $2x - y + 2z = 0$ . B.  $x - y - 2z = 0$ .  
C.  $2x + y - 2z = 0$ . D.  $2x + y - 2z + 1 = 0$ .

**Câu 36.** Biết  $F(x)$  là một nguyên hàm của hàm số  $f(x) = \frac{1}{x-1}$  và  $F(2) = 1$ . Tính  $F(3)$ .

- A.  $F(3) = \frac{1}{2}$ . B.  $F(3) = \frac{7}{4}$ . C.  $F(3) = \ln 2 - 1$ . D.  $F(3) = \ln 2 + 1$ .

**Câu 37.** Cho hình chóp  $S.ABCD$  có đáy là hình vuông  $ABCD$  tâm  $O$  cạnh  $AB = a$ , có  $SO$  vuông góc với mặt đáy và  $SO = a$ . Khoảng cách giữa  $SC$  và  $AB$  là

- A.  $\frac{2a\sqrt{5}}{7}$ . B.  $\frac{2a\sqrt{5}}{5}$ . C.  $\frac{a\sqrt{5}}{7}$ . D.  $\frac{a\sqrt{5}}{5}$ .

**Câu 38.** Cho hình nón đỉnh  $S$  có chiều cao bằng bán kính đáy và bằng  $2a$ . Mặt phẳng  $(P)$  đi qua  $S$  cắt đường tròn đáy tại  $A$  và  $B$  sao cho  $AB = 2\sqrt{3}a$ . Tính khoảng cách từ tâm của đường tròn đáy đến  $(P)$ .

- A.  $\frac{a}{\sqrt{5}}$ . B.  $\frac{a\sqrt{2}}{2}$ . C.  $a$ . D.  $\frac{2a}{\sqrt{5}}$ .

**Câu 39.** Cho hình lăng trụ  $ABC.A'B'C'$  có đáy là tam giác đều cạnh  $a$ . Hình chiếu vuông góc của điểm  $A'$  lên mặt phẳng  $(ABC)$  trùng với trọng tâm tam giác  $ABC$ . Biết khoảng cách giữa hai đường thẳng  $AA'$  và  $BC$  bằng  $\frac{a\sqrt{3}}{4}$ . Tính theo  $a$  thể tích  $V$  của khối lăng trụ  $ABC.A'B'C'$ .

- A.  $V = \frac{a^3\sqrt{3}}{12}$ . B.  $V = \frac{a^3\sqrt{3}}{6}$ . C.  $V = \frac{a^3\sqrt{3}}{24}$ . D.  $V = \frac{a^3\sqrt{3}}{3}$ .

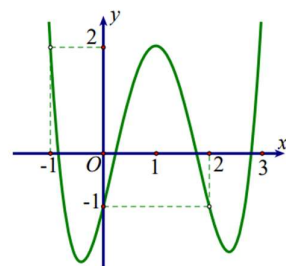
**Câu 40.** Cho phương trình  $\frac{1}{2}\log_2(x+2) + x + 3 = \log_2\frac{2x+1}{x} + \left(1 + \frac{1}{x}\right)^2 + 2\sqrt{x+2}$ , gọi  $S = \frac{a+\sqrt{b}}{2}$  là tổng tất cả các nghiệm của nó. Khi đó, giá trị của  $a \times b$  là

- A. 12. B. 9. C. 13. D. -2.

**Câu 41.** Cho  $\log_6 45 = a + \frac{\log_2 5 + b}{\log_2 3 + c}$  với  $a, b, c \in \mathbb{Z}$ . Tính tổng  $a + b + c$ ?

- A. 0. B. 1. C. -4. D. 2.

**Câu 42.** Cho hàm số  $y = f(x)$  có đạo hàm liên tục trên  $\mathbb{R}$  và có đồ thị hàm số  $y = f'(x^2 - 2x)$  như hình vẽ.



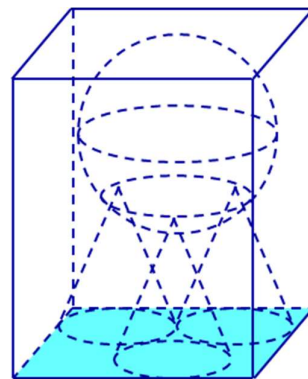
Hỏi hàm số  $y = f(x^2 - 1) + \frac{2}{3}x^3 + 1$  đồng biến trên khoảng nào dưới đây?

- A.  $(-1; 0)$  B.  $(-3; -2)$   
C.  $(-1; 2)$  D.  $(-2; -1)$

**Câu 43.** Cho hàm số  $f(x)$  xác định trên  $\mathbb{R} \setminus \{-1; 2\}$  thỏa mãn  $f'(x) = \frac{1}{x^2 - x - 2}$ ,  $f(-3) - f(3) = 0$  và  $f(0) = \frac{1}{3}$ . Giá trị của biểu thức  $f(-4) + f(1) - f(4)$  bằng:

- A.  $\frac{1}{3} - \ln 2$ . B.  $\frac{1}{3} + \frac{1}{3} \ln 2$ . C.  $1 + \frac{1}{3} \ln \frac{8}{5}$ . D.  $1 + \ln 80$ .

**Câu 44.** Có một bể hình hộp chữ nhật chứa đầy nước. Người ta cho ba khối nón giống nhau có thiết diện qua trục là một tam giác vuông cân vào bể sao cho ba đường tròn đáy của ba khối nón tiếp xúc với nhau, một khối nón có đường tròn đáy chỉ tiếp xúc với một cạnh của đáy bể và hai khối nón còn lại có đường tròn đáy tiếp xúc với hai cạnh của đáy bể. Sau đó người ta đặt lên đỉnh của ba khối nón một khối cầu có bán kính bằng  $\frac{4}{3}$  lần bán kính đáy của khối nón. Biết khối cầu vừa đủ ngập trong nước và lượng nước trào ra là  $\frac{337\pi}{3} (\text{cm}^3)$ . Tính thể tích nước ban đầu ở trong bể.



- A.  $\approx 1174,2 (\text{cm}^3)$ .      B.  $\approx 1106,2 (\text{cm}^3)$ .  
C.  $\approx 885,2 (\text{cm}^3)$ .      D.  $\approx 1209,2 (\text{cm}^3)$ .

**Câu 45.** Xét bất phương trình  $\log_2^2 2x - 2(m+1)\log_2 x - 2 < 0$ . Tìm tất cả các giá trị của tham số  $m$  để bất phương trình có nghiệm thuộc khoảng  $(\sqrt{2}; +\infty)$ .

- A.  $m \in (0; +\infty)$ .      B.  $m \in (-\infty; 0)$ .      C.  $m \in \left(-\frac{3}{4}; 0\right)$ .      D.  $m \in \left(-\frac{3}{4}; +\infty\right)$ .

**Câu 46.** Cho hàm số  $f(x)$  đồng biến có đạo hàm đến cấp hai trên đoạn  $[0; 2]$  và thỏa mãn  $[f(x)]^2 - f(x) \cdot f''(x) + [f'(x)]^2 = 0$ . Biết  $f(0) = 1, f(2) = e^6$ . Khi đó  $f(1)$  bằng

- A.  $e^3$ .      B.  $e^2$ .      C.  $e^{\frac{5}{2}}$ .      D.  $e^{\frac{3}{2}}$ .

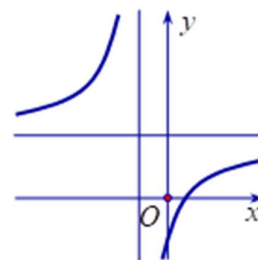
**Câu 47.** Trong không gian với hệ tọa độ  $Oxyz$ , cho  $A(2; 0; 0), M(1; 1; 1)$ . Mặt phẳng  $(P)$  thay đổi qua  $AM$  cắt các tia  $Oy, Oz$  lần lượt tại  $B, C$ . Khi mặt phẳng  $(P)$  thay đổi thì diện tích tam giác  $ABC$  đạt giá trị nhỏ nhất bằng bao nhiêu?

- A.  $2\sqrt{6}$ .      B.  $5\sqrt{6}$ .      C.  $4\sqrt{6}$ .      D.  $3\sqrt{6}$ .

**Câu 48.** Số các giá trị nguyên của tham số  $m$  để phương trình  $\log_{\sqrt{2}}(x-1) = \log_2(mx-8)$  có hai nghiệm phân biệt là

- A. 3.      B. 5.      C. Vô số.      D. 4.

**Câu 49.** Cho hàm số  $y = \frac{ax+b}{x-c}$  có đồ thị như hình vẽ bên.



Tìm khẳng định đúng trong các khẳng định sau

- A.  $a > 0, b < 0, c > 0$ .      B.  $a > 0, b < 0, c < 0$ .  
C.  $a < 0, b > 0, c > 0$ .      D.  $a > 0, b > 0, c < 0$ .

**Câu 50.** Trong không gian với hệ tọa độ  $Oxyz$ , cho hai điểm  $A(3; 5; -1), B(1; 1; 3)$ . Tìm tọa độ điểm  $M$  thuộc  $(Oxy)$  sao cho  $|\overrightarrow{MA} + \overrightarrow{MB}|$  nhỏ nhất?

- A.  $(-2; -3; 0)$ .      B.  $(2; 3; 0)$ .      C.  $(-2; 3; 0)$ .      D.  $(2; -3; 0)$ .

----- HẾT -----